

EJERCICIOS DE ESTIMULACIÓN COGNITIVA PARA DEMENCIAS LEVES O MODERADAS: ATENCIÓN

Índice

1. Símbolos repetidos	3
2. Suma y anota	4
3. Colorear los distintos utensilios	5
4. ¿Gemelos o mellizos?	6
5. Número de cuadrados	7
6. Matemáticas	8
7. Letras escondidas	9
8. Busca y tacha	10
9. La música de tu casa	11
10. Fuga de dibujos	12
11. Construir tu agenda	13
12. Sopa de letras	14
13. Conflicto de hemisferios.....	15
14. Concentración: el laberinto.....	16
15. Cuenta letras.....	17
16. Números repetidos.....	18
17. Letras repetidas	19
18. Símbolos repetidos	20
19. Caras y sumas	21
20. La música de tu casa	22
21. ¡Busca y tacha!.....	23
22. Letras escondidas	24
23. Matemáticas	25
24. Número de cuadrados	26
25. Gemelos o mellizos.....	27
26. Suma y anota	28
27. Suma y anota	29
28. Símbolos repetidos.....	30
29. Cuenta letras.....	31
30. Números repetidos.....	32
31. Rodea con círculos.....	33
32. Letras repetidas	34
33. Símbolos repetidos.....	35
34. Caras y sumas	36

35. Sopa de números	37
36. Suma y sigue	38
37. Señala las figuras iguales.....	39
38. ¿Qué letra se repite?	40
39. Encuentra similitudes	41
40. Grupo de números.....	42
41. Letras y tamaños.....	43
42. Números y figuras.....	44
43. Pinta caras.....	45
44. Ordenar números	46
45. Número de objetos.....	47
46. Cuenta objetos.....	48
47. Enumera las figuras repetidas.....	49
48. Meses del año.....	50
49. Marcar los alimentos.....	51
50. Colorea las coordenadas	52
51. Copiar figuras.....	53
52. Asociar números y figuras	54
53. Señala las diferencias	55
54. Ordena números de mayor a menor y de menor a mayor	56
55. Encuentra cinco diferencias	57
56. Escapa del laberinto	58
57. Completa la sopa de letras.....	59
58. Cuenta objetos.....	60
59. Rodea los símbolos iguales	61
60. Fichas escondidas	62
61. ¿Son iguales o no?	63
62. Unir fichas iguales.....	64
63. Fichas escondidas	65

1. Símbolos repetidos

ATENCIÓN

EJ. 1

INSTRUCCIONES

Rodea con círculos los símbolos repetidos que te indican.

Rodea con círculos todas las letras que encuentres como ésta **A**:

O U I A I
U E O U A
E A I O U
A O E I E

Rodea con círculos todos los números que encuentres como éste: **3**

4 2 1 2 5
1 3 4 5 3
3 1 5 1 4
4 5 2 3 2


2. Suma y anota

ATENCIÓN

EJ. 2

INSTRUCCIONES

Anota el número de tenedores y
cucharas que hay en la imagen.



4. ¿Gemelos o mellizos?

ATENCIÓN

EJ. 4

INSTRUCCIONES

Resalta y explica las diferencias
entre las parejas de las fotos



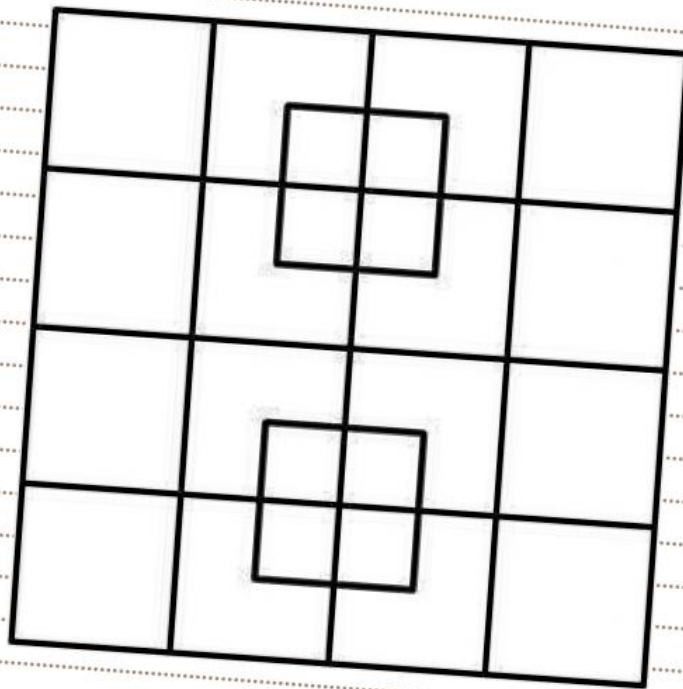
5. Número de cuadrados

ATENCIÓN

EJ. 5

INSTRUCCIONES

¿Cuántos cuadrados hay
en la imagen?



- A) 18 B) 26 C) 30 D) 39 E) 40

6. Matemáticas

ATENCIÓN

EJ. 6






INSTRUCCIONES







Realiza las siguientes operaciones









y escribe el resultado final















(los símbolos cuentan como 1 elemento).

Observa el ejemplo de la primera matriz:

4	+		-	4	+
	-	3	+	2	+
8	-		-	2	+
	+	5	+		-
2	+		+	4	= 16

2	+		-	1	+
	-	3	+	2	+
5	-		-	2	+
	+	5	+		-
2	+		+	4	=

4	+		-		+
	-		+	2	+
8	-		-	2	+
	+		+		-
2	+		+	4	=

	+		-		+
	-		+		+
	-		-		+
	+		+		-
	+		+		=

7. Letras escondidas

ATENCIÓN

EJ. 7

INSTRUCCIONES

Busca las letras destacadas en mayúsculas en las siguientes frases y señala **SÍ** o **NO** si aparecen:

EJEMPLO

NS - Nunca fue fácil utilizar medios de transporte en el desierto. **SÍ** **NO**

EJERCICIO

MB - Envilecido, el bombero tomó la manguera y la conectó a la bomba de agua. **SÍ** **NO**

ST - Al transportista no le gusto que su trailer fuera el ultimo en hacer el transbordo. **SÍ** **NO**

GN - Aquel buen sabio nunca sobrevoló su ego; más bien reto a la ignorancia. **SÍ** **NO**

AL - En aquellos campos no había yerba tierna ni jóvenes brotes de alfalfa. **SÍ** **NO**

ER - La noche fría se cernía sobre la ciudad yerma de almas y muros desolados. **SÍ** **NO**

ED - El alfarero cruzaba los dedos sobre el barro fresco y frágil destrozándolos. **SÍ** **NO**

JI - La joven niña jugaba con el joven Guillermo que gimoteaba sobre un jubón roto. **SÍ** **NO**

NF - En la montaña un magnifico mamut merodeaba entre montones de margaritas. **SÍ** **NO**

CI - En los coches de choque los chicos chascan sus dedos y las chicas chismorrear. **SÍ** **NO**

8. Busca y tacha

ATENCIÓN

EJ. 8

INSTRUCCIONES

Del siguiente cuadro, busca y tacha los siguientes caracteres:

Los 4

Las G

Todas las T

Todas las R

B	J	R	O	M	Z	5	D	L	2
3	G	K	6	Z	Z	B	Y	L	W
8	N	U	L	S	Y	S	A	V	N
Z	4	K	3	Q	U	K	X	4	5
8	R	E	9	8	H	2	7	U	E
5	P	V	7	1	N	6	G	C	E
P	G	Y	2	N	B	K	X	W	7
1	N	I	J	0	Z	G	6	N	9
Q	3	Z	H	E	8	I	S	5	L
T	C	6	0	5	8	N	J	Y	4

9. La música de tu casa

ATENCIÓN

EJ. 9

INSTRUCCIONES

Hoy vas a escuchar.

En todos los lugares hay sonidos, ruidos, música o voces que estimulan nuestro oído. Seguro que ahora mismo donde estés, puedes escuchar algo. Haz los siguientes ejercicios:

1. Cierra los ojos y concéntrate. Escucha con atención lo que tengas alrededor. Si estás en una habitación, seguro que puedes escuchar a otras personas. El ruido de electrodomésticos, una televisión, los sonidos que llegan de la calle... ¿Qué puedes escuchar en el lugar donde estás? ¿De qué dirección vienen los sonidos? ¿Son fuertes o débiles? ¿Eres capaz de reconocerlos todos?
2. Toma un lápiz o un bolígrafo con una mano y una cuchara o un objeto metálico con la otra. Con los ojos cerrados golpea al ritmo que tú quieras la mesa con el lápiz: escucha el sonido atentamente, crea un ritmo. Ahora haz lo mismo con la cuchara, maneja el ritmo a tu gusto y atiende al sonido.
3. Ahora crea un ritmo con ambos 'instrumentos'. Golpea alternativamente el lápiz y la cuchara en la mesa creando tu propio ritmo, tu propia canción.
4. ¿Podrías tocar/imitar el ritmo de una canción que sepas con estos instrumentos? ¿Cuál?
5. ¿Podrías cantar la canción mientras tocas con estos instrumentos? ¿Cómo te sientes?


10. Fuga de dibujos

ATENCIÓN

EJ. 10

INSTRUCCIONES

En cada bloque de la derecha
falta un elemento del bloque
correspondiente de la izquierda.
Averigua cuál es y colóralo.



11. Construir tu agenda


ATENCIÓN

EJ. 11

INSTRUCCIONES

Recorta los siguientes aparatos y clasificalos en una agenda según estas categorías:

HOGAR - TRABAJO - TRANSPORTE




12. Sopa de letras

ATENCIÓN

EJ. 12

Encuentra las palabras
ocultas en la sopa de letras:



canario
conejo

gato
hamster

iguana
oveja

perro
raton

toro
vaca

13. Conflicto de hemisferios

ATENCIÓN
EJ. 13

INSTRUCCIONES
Tacha las palabras que estén escritas con el color de tinta que corresponde con el color que nombran

ROJO	AZUL	AZUL	VERDE
VERDE	VERDE	ROJO	ROJO
AZUL	VERDE	VERDE	AZUL
ROJO	ROJO	ROJO	VERDE
AZUL	VERDE	AZUL	AZUL
VERDE	ROJO	VERDE	ROJO
AZUL	VERDE	ROJO	AZUL
VERDE	AZUL	AZUL	ROJO
ROJO	ROJO	VERDE	VERDE
AZUL	AZUL	ROJO	ROJO
ROJO	VERDE	AZUL	VERDE
VERDE	AZUL	VERDE	VERDE
ROJO	ROJO	AZUL	AZUL
AZUL	ROJO	ROJO	ROJO
VERDE	ROJO	VERDE	VERDE
ROJO	AZUL	AZUL	ROJO
AZUL	VERDE	AZUL	VERDE
VERDE	ROJO	ROJO	AZUL
	ROJO	AZUL	VERDE


14. Concentración: el laberinto

ATENCIÓN

EJ. 14

INSTRUCCIONES

Ayuda a Juan a encontrar
la salida.



16. Números repetidos

ATENCIÓN

EJ. 16

INSTRUCCIONES

Rodea con círculos los números
que encuentres como este: **6**

6	1	7	5	0	4	9
4	9	0	3	2	1	7
7	5	2	8	6	8	5
9	2	8	1	7	3	4
3	0	3	9	8	9	2
8	7	6	2	3	7	6
1	6	1	0	4	0	1
0	3	4	7	9	5	8
5	8	5	6	1	2	3
2	4	9	4	5	6	0
8	0	7	6	8	9	8
5	2	8	4	3	5	7
1	4	5	1	0	2	3
6	9	2	9	7	4	6
3	7	6	3	6	0	2
9	8	3	5	2	1	5
2	1	9	7	9	8	1
0	5	4	0	4	7	9
7	3	1	2	1	6	4
4	6	0	8	5	3	0

17. Letras repetidas

ATENCIÓN

EJ. 17

INSTRUCCIONES

Señala todas las palabras que
contengan AR:

ARROZ	AMOR	ÁRBOL
ARCA	IMPURO	ORCA
PERÚ	NIRVANA	PODER
RAMA	ARCHIVO	SAL
ARCHIVO	ABRIR	HARINA
BANDERA	ARO	ROZADURA
ARCO	ROMA	RAZÓN
ABRIGO	FRUTA	RARO
RANA	ARMADURA	RACIMO

18. Símbolos repetidos

ATENCIÓN
EJ. 18

INSTRUCCIONES
Señala todos los símbolos que encuentres como este ★

▲ ★ ● → ★ ▽

⊕ ★ ★ ⊘ ♥ ⚡

▭ ☾ ★ ▱ = ★

★ × ○ ★ ♥ ▽

⬠ ★ ◆ ★ ⬡ ☾

19. Caras y sumas

ATENCIÓN

EJ. 19

INSTRUCCIONES

Siga las instrucciones indicadas
al comienzo del ejercicio

Debajo de 😊 ponga un 1 y debajo de ☹️ ponga un 2. Sume los valores a la derecha y después sume el total de la columna:

😊	☹️	☹️	☹️	
☹️	😊	☹️	😊	
😊	☹️	😊	☹️	
☹️	😊	☹️	😊	
😊	☹️	😊	☹️	
☹️	😊	☹️	😊	

TOTAL:

--

20. La música de tu casa

ATENCIÓN

EJ. 20

INSTRUCCIONES

Hoy vas a escuchar.

En todos los lugares hay sonidos, ruidos, música o voces que estimulan nuestro oído. Seguro que ahora

mismo donde estés, puedes escuchar algo. Haz los siguientes ejercicios:

1. Cierra los ojos y concéntrate. Escucha con atención lo que tengas alrededor.

Si estás en una habitación, seguro que puedes escuchar a otras personas.

El ruido de electrodomésticos, una televisión, los sonidos que llegan de la

calle... ¿Qué puedes escuchar en el lugar donde estás? ¿De qué dirección

vienen los sonidos? ¿Son fuertes o débiles? ¿Eres capaz de reconocerlos todos?

2. Toma un lápiz o un bolígrafo con una mano y una cuchara o un objeto metálico

con la otra. Con los ojos cerrados golpea al ritmo que tú quieras la mesa con el

lápiz; escucha el sonido atentamente, crea un ritmo. Ahora haz lo mismo con la

cuchara, maneja el ritmo a tu gusto y atiende al sonido.

3. Ahora crea un ritmo con ambos 'instrumentos'. Golpea alternativamente el

lápiz y la cuchara en la mesa creando tu propio ritmo, tu propia canción.

4. ¿Podrías tocar/imitar el ritmo de una canción que sepas con estos

instrumentos? ¿Cuál?

5. ¿Podrías cantar la canción mientras tocas con estos instrumentos?

¿Cómo te sientes?

21. ¡Busca y tacha!

ATENCIÓN

EJ. 21

INSTRUCCIONES

Del siguiente cuadro, busca y tacha los siguientes caracteres:

Los 4

Las G

Todas las T

Todas las R

B	J	R	O	M	Z	5	D	L	2
3	G	K	6	Z	Z	B	Y	L	W
8	N	U	L	S	Y	S	A	V	N
Z	4	K	3	Q	U	K	X	4	5
8	R	E	9	8	H	2	7	U	E
5	P	V	7	1	N	6	G	C	E
P	G	Y	2	N	B	K	X	W	7
1	N	I	J	0	Z	G	6	N	9
Q	3	Z	H	E	8	I	S	5	L
T	C	6	0	5	8	N	J	Y	4

22. Letras escondidas

ATENCIÓN

EJ. 22

INSTRUCCIONES

Busca las letras destacadas en mayúsculas en las siguientes frases y señala SÍ o NO si aparecen:

EJEMPLO

NS - Nunca fue fácil utilizar medios de transporte en el desierto. SÍ NO

EJERCICIO

MB - Envilecido, el bombero tomó la manguera y la conectó a la bomba de agua. SÍ NO

ST - Al transportista no le gustó que su tráiler fuera el último en hacer el transbordo. SÍ NO

GN - Aquel buen sabio nunca sobrevoló su ego, más bien retó a la ignorancia. SÍ NO

AL - En aquellos campos no había yerba tierna ni jóvenes brotes de alfalfa. SÍ NO

ER - La noche fría se cernía sobre la ciudad yerma de almas y muros desolados. SÍ NO

ED - El alfarero cruzaba los dedos sobre el barro fresco y frágil deslizándolos. SÍ NO

JL - La joven niña jugaba con el joven Guillermo que gimoteaba sobre un jubón roto. SÍ NO

NT - En la montaña un magnífico mamut merodeaba entre montones de margaritas. SÍ NO

CI - En los coches de choque los chicos chascan sus dedos y las chicas chismorrear. SÍ NO

23. Matemáticas

ATENCIÓN

EJ. 23

INSTRUCCIONES

Realiza las siguientes operaciones
y escribe el resultado final
(los símbolos cuentan como 1 elemento).
Observa el ejemplo de la primera matriz:

4	+	🍏	-	4	+	
🍏	-	3	+	2	+	
8	-	🍏	-	2	+	
🍏	+	5	+	🍏	-	
2	+	🍏	+	4	=	16

2	+	🍏	-	1	+	
🍏	-	3	+	2	+	
5	-	🍏	-	2	+	
🍏	+	5	+	🍏	-	
2	+	🍏	+	4	=	

4	+	🍏	-	🍏	+	
🍏	-		+	2	+	
8	-	🍏	-	2	+	
🍏	+	🍏	+	🍏	-	
2	+	🍏	+	4	=	

🍏	+	🍏	-	🍏	+	
🍏	-	🍏	+	🍏	+	
🍏	-	🍏	-	🍏	+	
🍏	+	🍏	+	🍏	-	
🍏	+	🍏	+	🍏	=	

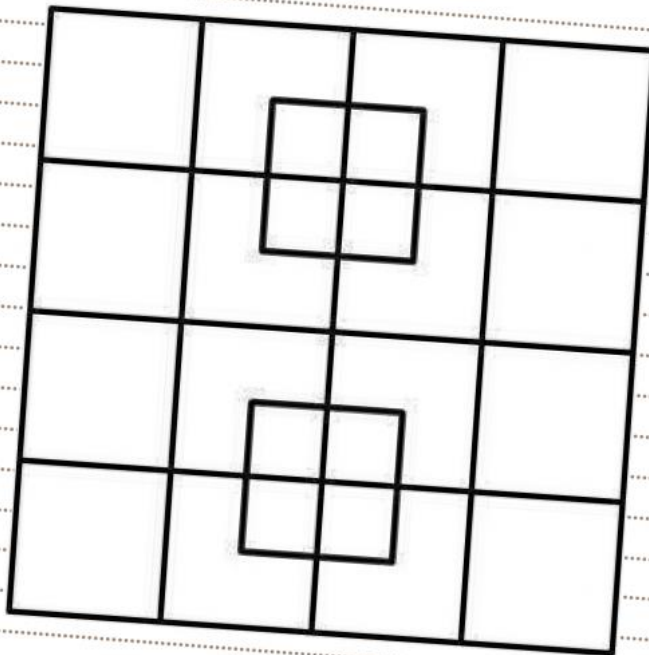
24. Número de cuadrados

ATENCIÓN

EJ. 24

INSTRUCCIONES

¿Cuántos cuadrados hay
en la imagen?



- A) 18 B) 26 C) 30 D) 39 E) 40

25. Gemelos o mellizos

ATENCIÓN

EJ. 25

INSTRUCCIONES

Resalta y explica las diferencias
entre las parejas de las fotos




26. Suma y anota

ATENCIÓN

EJ. 26

INSTRUCCIONES

Anota el número de tenedores y
cucharas que hay en la imagen.




27. Suma y anota

ATENCIÓN

EJ. 27

INSTRUCCIONES

Anota el número de tenedores y
cucharas que hay en la imagen.



28. Símbolos repetidos

ATENCIÓN

EJ. 28

INSTRUCCIONES

Rodea con círculos los símbolos repetidos que te indican.

Rodea con círculos todas las letras que encuentres como ésta **A**:

O U I A I
U E O U A
E A I O U
A O E I E

Rodea con círculos todos los números que encuentres como éste: **3**

4 2 1 2 5
1 3 4 5 3
3 1 5 1 4
4 5 2 3 2

29. Cuenta letras

ATENCIÓN

EJ. 29

INSTRUCCIONES

Escribe el número de letras que tiene la palabra correspondiente a cada número. Fíjate en el ejemplo.

1 Ejemplo: ("UNO") Tiene 3 letras	0	4
6	12	5
9	3	2
8	7	100

30. Números repetidos

ATENCIÓN

EJ. 30

INSTRUCCIONES

Rodea con círculos los números

que encuentres como este: **6**

6	1	7	5	0	4	9
4	9	0	3	2	1	7
7	5	2	8	6	8	5
9	2	8	1	7	3	4
3	0	3	9	8	9	2
8	7	6	2	3	7	6
1	6	1	0	4	0	1
0	3	4	7	9	5	8
5	8	5	6	1	2	3
2	4	9	4	5	6	0
8	0	7	6	8	9	8
5	2	8	4	3	5	7
1	4	5	1	0	2	3
6	9	2	9	7	4	6
3	7	6	3	6	0	2
9	8	3	5	2	1	5
2	1	9	7	9	8	1
0	5	4	0	4	7	9
7	3	1	2	1	6	4
4	6	0	8	5	3	0

31. Rodea con círculos

ATENCIÓN

EJ. 31

INSTRUCCIONES

Marca las letras y los números repetidos.

Rodea con círculos todas las letras que encuentres como ésta **A**:

O U I A I
U E O U A
E A I O U
A O E I E

Rodea con círculos todos los números que encuentres como éste: **3**

4 2 1 2 5
1 3 4 5 3
3 1 5 1 4
4 5 2 3 2

32. Letras repetidas

ATENCIÓN

EJ. 32

INSTRUCCIONES

Señala todas las palabras que
contengan AR:

ARROZ	AMOR	ÁRBOL
ARCA	IMPURO	ORCA
PERÚ	NIRVANA	PODER
RAMA	ARCHIVO	SAL
ARCHIVO	ABRIR	HARINA
BANDERA	ARO	ROZADURA
ARCO	ROMA	RAZÓN
ABRIGO	FRUTA	RARO
RANA	ARMADURA	RACIMO

33. Símbolos repetidos

ATENCIÓN
EJ. 33

INSTRUCCIONES
Señala todos los símbolos que encuentres como este ★

▲	★	●	➔	★	▲
⊕	★	★	⊘	♥	⚡
▭	☾	★	▭	=	★
★	⊗	○	★	♥	▲
⬠	★	◆	★	⬡	☾

34. Caras y sumas

ATENCIÓN

EJ. 34

INSTRUCCIONES

Siga las instrucciones indicadas al comienzo del ejercicio

Debajo de 😊 ponga un 1 y debajo de ☹️ ponga un 2. Sume los valores a la derecha y después sume el total de la columna:

😊	☹️	☹️	☹️	
☹️	😊	☹️	😊	
😊	☹️	😊	☹️	
☹️	😊	☹️	😊	
😊	☹️	😊	☹️	
☹️	😊	☹️	😊	

TOTAL:	
---------------	--

35. Sopa de números

ATENCIÓN

EJ. 35

INSTRUCCIONES

Busque las combinaciones de números en la sopa de números

• 547

• 402

• 6486

• 56565

• 673524

5	6	5	6	5	2	3
1	4	9	1	3	6	4
9	8	4	6	8	4	1
4	6	2	5	4	7	4
4	0	2	9	4	1	6
6	7	3	5	2	4	9

36. Suma y sigue

ATENCIÓN

EJ. 36

INSTRUCCIONES

Marca en el recuadro libre de cada
fila todos los 2 que encuentres
y después súmalo todo

4	1	3	4	8	7	6	2	4	
2	4	6	7	4	2	6	8	5	
9	7	0	2	3	4	1	6	2	
8	5	2	4	6	9	8	7	2	
6	4	8	7	9	5	1	3	8	
6	5	2	4	3	1	8	9	2	
8	7	4	2	3	1	8	6	5	
3	4	8	7	2	6	5	1	3	
6	2	4	8	9	6	2	4	1	
6	1	5	8	2	4	6	3	1	
4	2	6	5	4	7	8	2	1	
TOTAL:									

37. Señala las figuras iguales

ATENCIÓN

EJ. 37

INSTRUCCIONES

Señalar en rojo las figuras que sean iguales al tamaño de la muestras. Las más pequeñas en azul y las más grandes en verde.

♥	♥ ♥♥ ♥ ♥ ♥ ♥ ♥
R	R R R R R R R
✓	✓ ✓ ✓ ✓ ✓ ✓ ✓
TM	TM TM TM TM TM TM TM
🐾	🐾 🐾🐾 🐾 🐾 🐾 🐾
♣	♣ ♣ ♣ ♣ ♣ ♣ ♣
⊘	⊘ ⊘ ⊘ ⊘ ⊘ ⊘ ⊘
@	@ @ @ @ @ @ @
&	& & & & & &

38. ¿Qué letra se repite?



EJERCICIO

38

ATENCIÓN

INSTRUCCIONES

¿Qué letra se repite 4 veces?

.....
.....
.....

H	Y	B	O	M
E	I	F	U	Y
T	L	M	K	A
B	N	U	D	Q
X	J	L	M	S
R	Y	N	W	Z
V	O	D	B	H
S	I	M	J	E
K	H	T	Q	W

39. Encuentra similitudes



EJERCICIO

39

ATENCIÓN

INSTRUCCIONES

¿Cuántas "p" acompañadas de 4 puntos hay?
 No importa si la "p" es minúscula o mayúscula, ni la
 disposición de los puntos.

P: .p .p. .d. b: :p .b. :p. "p p... .p. P:: p..
 d: .b. p.. p: p. .p. "q :p: ..p .p. P: .P.. b"
 .b. p.. "P .b. :d: "p. :b :p ""p ..p .P. p." d:
 "q :p: ..p P: .p .p. p.. p: p. .p. "p. :b :p
 p. .p. "q :p: ..p .p. P: .P.. b" .b. p.. "P .b.
 d: "p. :b :p p: p. .p. "q :p: ..p .p ..p .P.
 p." P: .p .p. .d. b: :p :p: ..p .p. P: .P.. b"
 .b. p.. "P .b. :d: "p. :b :p ""p :d: "p. :b :p
 ""p ..p .P. p." d: "q :p: ..p P: .p .p. p.. .p.
 .p. P: .P.. b" .b. "p. :b :p ""p ..p .P. p." d:
 "q :p: ..p P: .p .p. p.. p: p. .p. "p. :b :p
 p. .p. "q :p: ..p .p. P: .P.. b" .b. p.. "P .b.
 d: "p. :b :p p: p. .p. p.. p: p. .p. "p. :b
 :p p. .p. "q :p: ..p .p. P: .P.. b" .b. p.. "d
 .b. d: "p. :b :p p: p. .p .p. .d. b: :p :p:
 ..p .p. P: .P.. b" .b. p.. "P .b. :d: "p. :b :p
 ""p :d: "p. :b :p ""p ..p .P. p." b" .b. p.. .p.

40. Grupo de números



EJERCICIO

40

ATENCIÓN

INSTRUCCIONES

Marque grupos de números consecutivos que al sumarlos den 5 ó 7

6	7	4	1	9	6	8	4	5	2	6	3	7
5	3	4	7	6	1	7	4	6	7	9	0	7
4	3	2	4	1	8	9	2	1	6	3	5	2
9	0	6	7	8	7	5	3	6	1	8	3	4
5	8	4	1	7	5	3	3	9	8	1	2	4
3	4	4	1	9	6	8	7	4	6	1	7	8
4	4	7	8	5	3	2	9	8	2	3	6	7
2	1	9	7	3	2	1	6	7	5	4	3	5
8	0	9	6	5	2	1	6	3	8	5	6	4
7	8	4	6	1	2	4	6	8	9	7	4	5
4	2	1	2	1	4	5	6	4	2	5	7	3
7	5	3	8	6	0	9	5	8	1	7	5	4
3	2	7	8	9	6	2	5	8	9	6	1	3

Grupos totales que dan 5: _____

Grupos totales que dan 7: _____

41. Letras y tamaños



EJERCICIO

41

ATENCIÓN

INSTRUCCIONES

Tacha las siguientes letras según su tamaño.

- VERDE → iguales en tamaño a la muestra
- ROJO → más pequeñas
- AZUL → más grandes

MUESTRA	
F	F F F F F F F F F
J	J J J J J J J J J J
T	T T T T T T T T T
Y	Y Y Y Y Y Y Y Y Y
E	E E E E E E E E E
N	N N N N N N N N N
w	w w W w w W w w W

42. Números y figuras









EJERCICIO

42

ATENCIÓN







INSTRUCCIONES

Asigna a cada figura el número que le corresponde


					
1	2	3	4	5	6







Asigna a cada figura el número que le corresponde:

43. Pinta caras



EJERCICIO

43

ATENCIÓN

INSTRUCCIONES


Sigue las siguientes órdenes:

Pinta de color **verde** las caras que miren hacia **abajo**.

Pinta de color **morado** las caras que miren hacia **arriba**.

Pinta de color **amarillo** las caras que miren hacia la **izquierda**.

Pinta de color **rojo** las caras que miren hacia la **derecha**.



44. Ordenar números



EJERCICIO

44

ATENCIÓN

INSTRUCCIONES

*Sigue las instrucciones
que aparecen abajo:*

82	651	9.007	200	7
5.000	34	705	12	43

Apunte todos los números mayores de 600

Ordene los números impares de menor a mayor

Apunte todos los números menores de 250

Ordene los números pares de mayor a menor

Ordene de mayor a menor los números menores de 300

45. Número de objetos




EJERCICIO















45


ATENCIÓN















INSTRUCCIONES

señala el número indicado de objetos:

4 

5 

46. Cuenta objetos



EJERCICIO

46

ATENCIÓN

INSTRUCCIONES

Señala el número indicado de objetos

6



7



47. Enumera las figuras repetidas

































































EJERCICIO

47

ATENCIÓN

INSTRUCCIONES

- Ponga un 1 debajo de 
- Ponga un 2 debajo de 

48. Meses del año



EJERCICIO

48

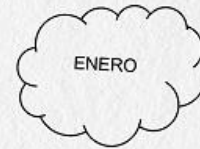
ATENCIÓN

INSTRUCCIONES

Unir con una línea y en orden correcto los meses del año:

.....

.....



49. Marcar los alimentos



EJERCICIO

49

ATENCIÓN

INSTRUCCIONES

Encierre con un círculo todos los alimentos:



50. Colorea las coordenadas



EJERCICIO


50


ATENCIÓN


INSTRUCCIONES

colorea las siguientes coordenadas
con el color correspondiente

 A2 F4 D7 B5

 B7 E3 D1 F2

 B3 F2 D4 A6

 C6 E5 A4 F6

	A	B	C	D	E	F
1						
2						
3						
4						
5						
6						
7						

51. Copiar figuras



EJERCICIO

51

ATENCIÓN

INSTRUCCIONES

Copia las figuras en la cuadrícula de al lado:

X	\triangle	\leftrightarrow	\cap
\equiv	+	0	\neq
/	=	\diamond	:

Ψ	\emptyset	\neq	\triangle
\cap	+		0
\wedge	\neq	X	:

0	\equiv	\diamond	X
\leftrightarrow	\cap	\neq	/
\emptyset	\wedge	:	Ψ

53. Señala las diferencias




EJERCICIO

53

ATENCIÓN

INSTRUCCIONES

Indica al menos 4 diferencias entre los dos dibujos:



54. Ordena números de mayor a menor y de menor a mayor



EJERCICIO

54

ATENCIÓN

INSTRUCCIONES

Ordena los números de menor a mayor en la columna "Ascendente", y de mayor a menor en la columna "Descendente":

Números desordenados	Ascendente	Descendente
42		
7		
19		
84		
23		
56		
3		
12		
77		
9		

55. Encuentra cinco diferencias




EJERCICIO

55

ATENCIÓN

INSTRUCCIONES

Encuentra y señala
al menos 5 diferencias
entre los dos dibujos:



56. Escapa del laberinto




EJERCICIO

56

ATENCIÓN

INSTRUCCIONES

Intenta encontrar la salida del laberinto.



57. Completa la sopa de letras



EJERCICIO

57

ATENCIÓN

INSTRUCCIONES

Hay diez palabras escondidas.
Trata de encontrarlas y señálaslas.

e Q G K e F J l T L
v M X K Y h e F E r
a c a s a p c L R e
l H G J a G o o S l
l B S p R L R t c o
a l i b r o X N a j
U l V B m e s a M g
N P l O l S U Z J Z
Q V I i F o G U P Y
Y V T H s J s F N H

58. Cuenta objetos



EJERCICIO

58

ATENCIÓN


INSTRUCCIONES





Señala cuántas sillas hay de cada tipo

.....

.....

.....



			
<input type="checkbox"/>	<input type="checkbox"/>	<input type="checkbox"/>	<input type="checkbox"/>

59. Rodea los símbolos iguales



EJERCICIO

59

ATENCIÓN


INSTRUCCIONES

Rodea todos los símbolos que sean iguales a este:




β	☺	☺	Ω	β	∞	β	Ω	∞	β
∞	Ω	β	☺	Ω	β	∞	☺	Ω	∞
☺	Δ	Ω	β	∞	Ω	∞	β	∞	☺
Ω	β	∞	Ω	☺	∞	Ω	∞	Ω	β
∞	Ω	β	∞	Ω	☺	β	Ω	Δ	Ω
☺	∞	Ω	☺	∞	Ω	∞	β	☺	∞
Ω	Ω	∞	Ω	β	∞	β	∞	Δ	β
β	∞	☺	Δ	☺	β	Ω	∞	Ω	Δ
Δ	β	Ω	∞	Ω	Δ	β	Δ	☺	Ω
∞	Δ	☺	β	Δ	β	Ω	Δ	∞	☺
Ω	☺	β	☺	☺	∞	β	☺	Ω	∞
β	Δ	☺	∞	Ω	β	Δ	Ω	Δ	Δ
∞	☺	Ω	β	β	∞	β	Ω	☺	∞
Ω	β	☺	∞	☺	β	Δ	∞	Ω	β
☺	∞	Ω	β	Δ	∞	Ω	☺	∞	Δ
β	Ω	β	Δ	∞	☺	β	∞	☺	Ω

60. Fichas escondidas



**CENTRO DE
RESERVA SOCIAL
DE ATENCIÓN A
PERSONAS CON
ENFERMEDAD DE
ALZHEIMER Y
OTRAS DEMENCIAS
SALAMANCA**

EJERCICIO 60



ATENCIÓN

INSTRUCCIONES
Encuentra las fichas escondidas y márcalas haciendo un círculo:

889	764	217	452	296
337	423	751	517	978
675	519	555	774	194
454	197	374	216	415

6	4	7	3	8	8	1	7	1	9	3	2	8	7	5	4	1	3	4	3	3	5
4	6	8	7	9	8	4	6	5	4	3	2	1	5	4	6	5	4	5	9	7	8
7	8	5	4	6	5	1	3	1	4	3	7	2	1	4	3	7	7	2	4	1	7
3	2	4	1	7	5	6	8	8	9	1	5	7	4	3	7	4	4	5	6	7	8
4	7	9	4	8	7	3	4	2	3	7	1	4	3	7	1	4	6	7	5	4	7
6	8	4	9	7	4	6	7	5	4	6	7	3	4	2	7	3	1	4	3	7	2
4	3	7	2	4	2	1	7	3	4	2	3	3	7	4	4	2	3	7	1	4	3
7	5	4	6	7	9	4	8	7	9	4	8	5	7	6	4	5	9	7	8	4	9
7	8	4	9	7	5	6	4	7	2	2	3	4	1	3	3	7	1	4	3	7	5
4	6	9	4	8	1	9	4	5	2	1	7	2	6	4	5	9	7	5	1	3	3
7	5	1	9	9	7	5	2	7	6	4	8	5	2	9	6	3	8	5	2	7	4
1	7	4	6	4	7	6	4	5	1	9	7	8	1	6	7	2	1	6	7	5	2
1	7	7	6	5	8	1	7	9	1	5	4	2	3	8	5	1	7	2	4	9	6
7	5	2	1	6	5	7	6	8	1	7	9	5	1	7	6	5	1	9	7	6	5
1	2	7	9	8	1	5	5	5	7	2	8	1	5	7	1	1	9	6	8	1	5
7	9	6	1	8	5	7	9	2	6	2	1	8	7	4	9	1	6	7	7	8	1

61. ¿Son iguales o no?



EJERCICIO

61

ATENCIÓN

INSTRUCCIONES

Presta atención a las siguientes flechas.

¿Son iguales o diferentes?

Sí es diferente, rodea el símbolo que no coincide

		¿Son iguales? Sí o NO
↔↖↘↓↓↗	↔↖↘↓↓↗	
↑↑↙↘↕↔	↑↑↘↖↕↔	
↘↖↕←↑↑→	↘↖↕←↑↕→	
↔↖↙↓↗↑↕	↔↖↙↓↗↑↕	
→→↙↘↕↙	→→↙←↖↕↙	

62. Unir fichas iguales




EJERCICIO

62

ATENCIÓN

INSTRUCCIONES

Observa estas imágenes y une con una línea las que son iguales:



63. Fichas escondidas



EJERCICIO

63

ATENCIÓN

INSTRUCCIONES

Encuentra las fichas escondidas
y enciérralas:

889	764	217	452	296
337	423	751	517	978
675	519	555	774	194
454	197	374	216	415

6	4	7	3	8	8	1	7	1	9	3	2	8	7	5	4	1	3	4	3	3	5
4	6	8	7	9	8	4	6	5	4	3	2	1	5	4	6	5	4	5	9	7	8
7	8	5	4	6	5	1	3	1	4	3	7	2	1	4	3	7	7	2	4	1	7
3	2	4	1	7	5	6	8	8	9	1	5	7	4	3	7	4	4	5	6	7	8
4	7	9	4	8	7	3	4	2	3	7	1	4	3	7	1	4	6	7	5	4	7
6	8	4	9	7	4	6	7	5	4	6	7	3	4	2	7	3	1	4	3	7	2
4	3	7	2	4	2	1	7	3	4	2	3	3	7	4	4	2	3	7	1	4	3
7	5	4	6	7	9	4	8	7	9	4	8	5	7	6	4	5	9	7	8	4	9
7	8	4	9	7	5	6	4	7	2	2	3	4	1	3	3	7	1	4	3	7	5
4	6	9	4	8	1	9	4	5	2	1	7	2	6	4	5	9	7	5	1	3	3
7	5	1	9	9	7	5	2	7	6	4	8	5	2	9	6	3	8	5	2	7	4
1	7	4	6	4	7	6	4	5	1	9	7	8	1	6	7	2	1	6	7	5	2
1	7	7	6	5	8	1	7	9	1	5	4	2	3	8	5	1	7	2	4	9	6
7	5	2	1	6	5	7	6	8	1	7	9	5	1	7	6	5	1	9	7	6	5
1	2	7	9	8	1	5	5	5	7	2	8	1	5	7	1	1	9	6	8	1	5
7	9	6	1	8	5	7	9	2	6	2	1	8	7	4	9	1	6	7	7	8	1